

1. Забор (aed)

1 сек / 3 сек

100 очков

Уно сторит забор вокруг пастбища. Забор имеет вид замкнутой ломанной, которая состоит из N отрезков. То есть, каждый отрезок начинается с конца предыдущего, а конец последнего отрезка совпадает с началом первого. Отрезки пронумерованы $1 \dots N$ против часовой стрелки. Можно предполагать, что отрезки не пересекаются и не касаются (кроме общих конечных точек последовательных отрезков).

По окончании работы, Уно хочет осмотреть результат. Напиши программу, которая по месту нахождения Уно установит, какие отрезки ему видны. Уно может находиться как внутри огороженной территории, так и снаружи, однако он не может находиться с каким-либо отрезком забора на одной прямой.

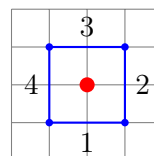
Отрезок забора виден, если найдётся такой отрезок, соединяющий место нахождения Уно с какой-то точкой отрезка забора, который бы не пересекался и не соприкасался с другими отрезками забора. (Другими словами, Уно должен видеть часть отрезка забора ненулевой длины.)

Входные данные. В первой строке файла `aedsis.txt` целое число N ($3 \leq N \leq 1000$) — количество отрезков забора. Во второй строке два разделённых пробелом целых числа — координаты X и Y места нахождения Уно. В каждой из следующих N строк два разделённых пробелом целых числа — на строке $i + 2$ координаты X_i и Y_i начала отрезка номер i . Все координаты целые числа, модули которых не более 10^5 .

Выходные данные. В первую строку файла `aedval.txt` вывести целое число M — количество отрезков забора, видимых Уно. Во вторую строку вывести M разделённых пробелами целых чисел — номера видимых Уно отрезков забора в возрастающем порядке.

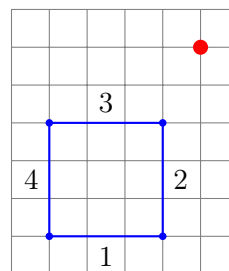
Пример.

<code>aedsis.txt</code>	<code>aedval.txt</code>
4	4
2 2	1 2 3 4
1 1	
3 1	
3 3	
1 3	



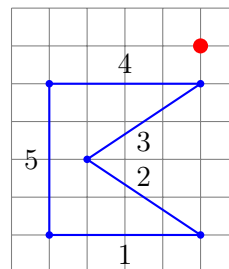
Пример.

<code>aedsis.txt</code>	<code>aedval.txt</code>
4	2
5 6	2 3
1 1	
4 1	
4 4	
1 4	



Пример.

<code>aedsis.txt</code>	<code>aedval.txt</code>
5	1
5 6	4
1 1	
5 1	
2 3	
5 5	
1 5	



Оценивание. В этом задании тесты поделены на группы. За каждую группу очки получают только те решения, которые пройдут все тесты этой группы. В группах выполняются следующие дополнительные условия:

1. (3 + 3 очка) $N \leq 50$ и забор имеет вид выпуклого многоугольника;
2. (7 + 7 очков) забор имеет вид выпуклого многоугольника;
3. (2 + 5 + 5 очков) $N \leq 50$ и все отрезки забора параллельны координатным осям;
4. (18 очков) все отрезки забора параллельны координатным осям;
5. (4 + 5 + 5 очков) $N \leq 50$;
6. (16 очков) $N \leq 200$;
7. (20 очков) дополнительных условий нет.